

Avstralija in Oceanija

1. Avstralija je najbolj odmaknjena od ostalih celin, zaradi česar se je razvilo posebno živalstvo in rastlinstvo.

a) Obkroži črke pred trditvami, ki pravilno opredeljujejo lego in razsežnosti Avstralije.

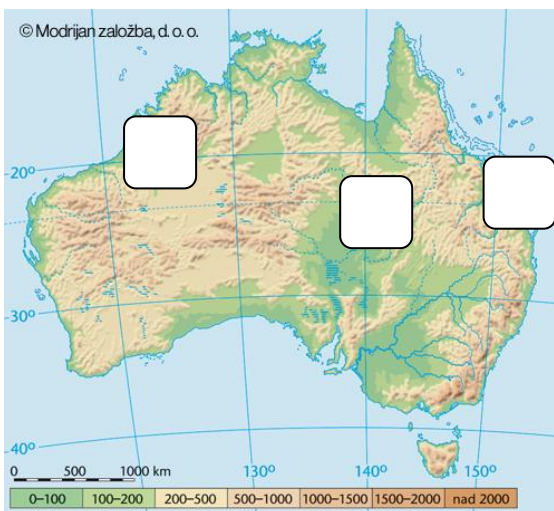
- A Je tretja največja celina.
- B Je najmanjša celina.
- C V celoti leži južno od ekvatorja.
- Č Ekvator jo razdeli na manjšo severno in večjo južno polovico.
- D V celoti leži vzhodno od začetnega poldnevnik.

b) Živalske posebnosti poveži z njihovimi značilnostmi tako, da v oklepaj pred žival v levem stolpcu prepišeš izbrano črko izpred ustrezne značilnosti v desnem stolpcu.

- | | |
|-------------|--|
| () koala | A Pri skoku se odpravljajo z močnim repom. |
| () kenguru | B Največja kopenska žival na svetu. |
| () kljunaš | C Ptica podobna afriškemu noju, a manjša. |
| () emu | Č Sodi med žive fosile. |
| | D Vrečar, ki se hrani z evkaliptusovimi listi. |

c) Razloži razlog za tako poseben živalski svet Avstralije.

2. Površje Avstralije je dokaj enolično.



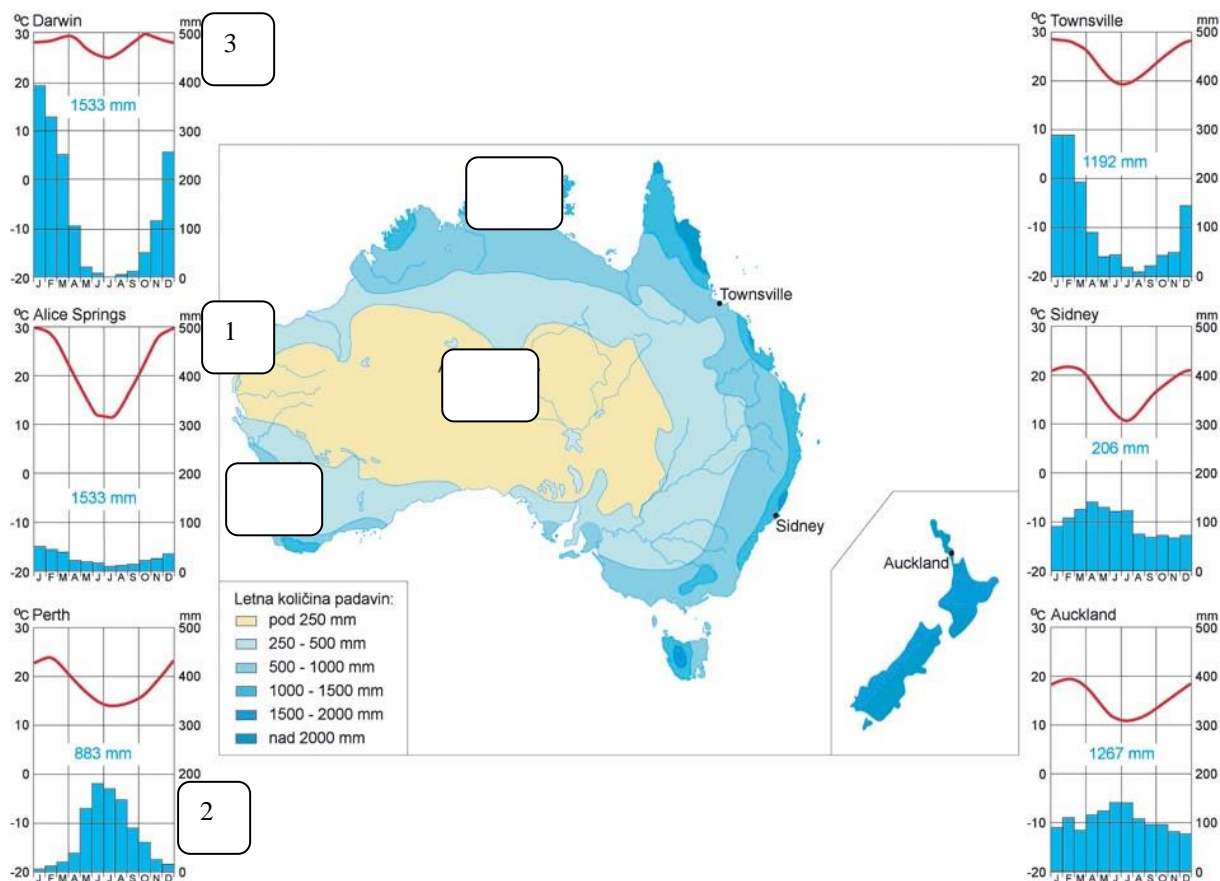
a) Na karto Avstralije na ustrezno mesto vpiši tri izbrane številke izpred ustrezne pokrajinske enote.

- 1 Veliko razvodno gorovje
- 2 Atlas
- 3 Srednjeavstralsko nižavje
- 4 puščavski ravniki in osamelih hribovja

b) Ob severovzhodni obali se vleče Veliki koralni greben. V dveh točkah ovrednoti njegov pomen za sodobno Avstralijo.

3. Kljub relativni majhnosti ima Avstralija zelo raznoliko podnebje.

a) Oglej si karto razporeditve padavin in odgovori na vprašanja.



1. Navedi dve območji z veliko količino padavin.

Območje 1: _____

Območje 2: _____

b) Naslednji nalogi reši s pomočjo klimogramov.

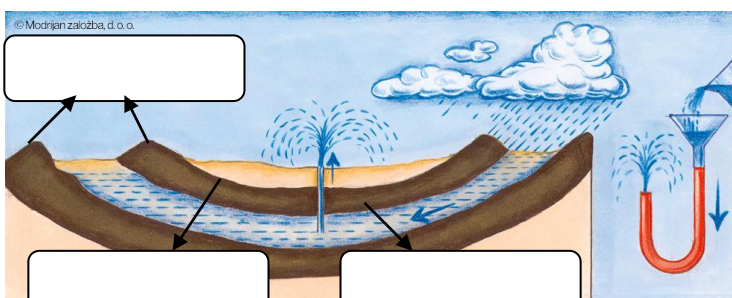
1. V pravokotnike na karti naloge a vpiši številke izpred klimogramov, ki predstavljajo podnebje označenega območja.

2. V oklepaj pred pravilno trditvijo naredi kljukico.

- () Klimogram Darwina predstavlja oceansko podnebje.
- () Klimogram Perth predstavlja sredozemsko podnebje.
- () Klimogram Alice Springs predstavlja savansko podnebje.

c) Sredi poletja si se odpravil v Avstralijo. Po izkrcanju na letališču si ugotovil, da si s seboj vzel le poletna oblačila. Pojasni, zakaj je bil to tisti trenutek dokaj resen problem.

4. Pomanjkanje padavin in tekočih voda sta resna problema prebivalstva sušnejših območij Avstralije.



tega vodnega sistema.

a) Kaj prikazuje shema?

b) V pravokotnika na shemi vpiši, kje leži propustna in kje nepropustna plast ter kje se nahaja podtalnica.

c) S pomočjo sheme pojasni delovanje

č) Kakšen je pomen tovrstnih vodnih zalog v vsakdanjem življenju tamkajšnjega prebivalstva?

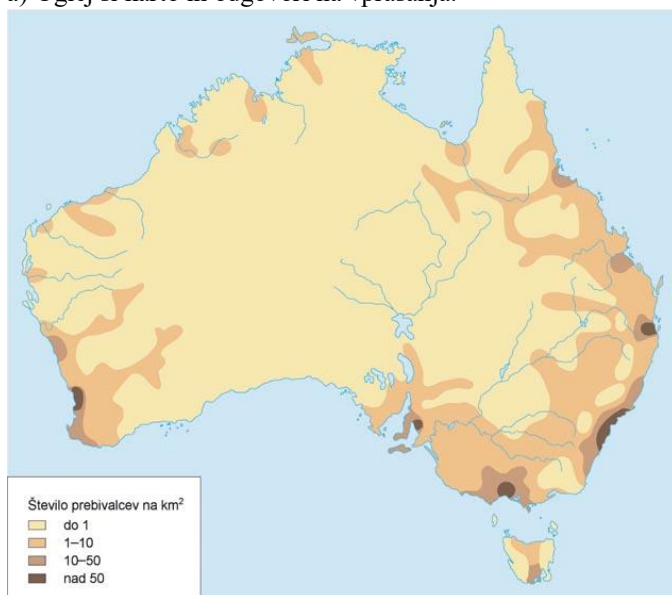
1. _____

2. _____

7

5. Avstralija je redko poseljena celina.

a) Oglej si karto in odgovori na vprašanja.



1. Kateri del celine je najgosteje poseljen? _____

2. Navedi tri razloge za redko poselitev, predvsem v notranjosti celine.

Razlog 1: _____

Razlog 2: _____

Razlog 3: _____

b) Besedilo o prvotnih prebivalcih Avstralije dopolni tako, da na prazne črte zapišeš manjkajoče pojme in podatke.

Prvotne prebivalce Avstralije imenujemo tudi _____. Njihova kultura naj bi bila stara že _____ let. Prišli so iz _____ in s seboj pripeljali pse, prednike današnjih _____. Prebivalci so _____ polti, srednje rasti in skodranih las. Zelo majhen del tega prebivalstva še vedno živi _____ v lovsko – nabiralniških skupnostih.

6. Avstralija je gospodarsko zelo razvita država.

a) Pojasni, zakaj kljub neugodnim naravnim razmeram skoraj dve tretjini svojega ozemlja izkoriščajo za kmetijstvo.

b) Pojasni, zakaj na jugovzhodu države prevladuje govedoreja, v notranjosti pa ovčereja.

c) Katera je največja ovira za gospodarski razvoj Avstralije?


7. Novo Zelandijo sestavljata dva otoka z oceanskim podnebjem.

Obkroži DA, če trditev, ki se nanaša na Novo Zelandijo drži, oziroma NE, če ne drži. Nepravilne trditve popravi in jih zapiši na ustrezne črte.

1. Glavna otoka ločuje Darwinova ožina.	DA	NE
2. Za Severni otok je značilno vulkansko delovanje.	DA	NE
3. Na Južnem otoku najdemo številne fjorde.	DA	NE
4. Deželo so prvi poselili Evropejci.	DA	NE
5. Sočni pašniki v notranjosti omogočajo razvoj ovčereje.	DA	NE
6. Severni otok je gosteje poseljen od Južnega.	DA	NE

8. Oceanija je območje raztresenih vulkanskih in koralnih otokov.

a) Faze nastanka atola uredi tako, da sličice razvrstiš v logično časovno zaporedje. Najzgodnejši fazi v kvadratek pripiši številko 1, nekoliko mlajši številko 2, najmlajši pa številko 3.



b) Opisom otočij Oceanije pripiši ime.

1. _____ – del Oceanije med Japonsko in Novo Gvinejo
2. _____ – otoki raztreseni po vzhodnem delu Tihega oceana.
3. _____ – del Oceanije vzhodno od Nove Gvineje

c) Si agent v turistični agenciji. S katerimi tremi argumenti najlažje prepričaš stranke za obisk izbranega otoka Oceanije?

1. _____
2. _____
3. _____

9. Po čem še slovi Avstralija in Oceanija?

a) Med naštetimi pojmi (*scrub, sekvoja, merinovka, tornado*) izberi dva, ki sta značilna za to območje. Prepiši ju na spodnji črti in razloži.

1. _____
2. _____

b) S popotovanja po Novi Gvineji si se vrnil poln vtisov po srečanju z domačini v osrednjem delu otoka. Pojasni, zakaj so domačini nate naredili tako velik vtis.
